

แบบฝึกหัด 7.1

บอกเวลาเป็นนาฬิกาให้ถูกต้องทั้งกลางวันและกลางคืน

1



กลางวัน \_\_\_\_\_  
กลางคืน \_\_\_\_\_

2



กลางวัน \_\_\_\_\_  
กลางคืน \_\_\_\_\_

3



กลางวัน \_\_\_\_\_  
กลางคืน \_\_\_\_\_

4



กลางวัน \_\_\_\_\_  
กลางคืน \_\_\_\_\_

5



กลางวัน \_\_\_\_\_  
กลางคืน \_\_\_\_\_

## แบบฝึกหัด 7.2

1 เขียนเวลาต่อไปนี้โดยใช้จุด

เวลาเป็นนาฬิกาและนาที	แบบใช้จุด
20 นาฬิกา 20 นาที	<input type="text"/>
22 นาฬิกา	<input type="text"/>
9 นาฬิกา 45 นาที	<input type="text"/>
6 นาฬิกา 10 นาที	<input type="text"/>
18 นาฬิกา 50 นาที	<input type="text"/>
14 นาฬิกา 20 นาที	<input type="text"/>
20 นาฬิกา 5 นาที	<input type="text"/>

2 เขียนคำอ่านเวลาต่อไปนี้

เวลา	คำอ่าน
11.00 น.	<input type="text"/>
7.00 น.	<input type="text"/>
16.30 น.	<input type="text"/>
9.05 น.	<input type="text"/>
0.45 น.	<input type="text"/>

3 เขียนเวลาในช่องว่าง

ตัวอย่าง



กลางวัน

\_\_\_\_\_ หรือ \_\_\_\_\_

หรือ

กลางคืน

\_\_\_\_\_ หรือ \_\_\_\_\_

หรือ



กลางวัน

\_\_\_\_\_ หรือ \_\_\_\_\_

หรือ

กลางคืน

\_\_\_\_\_ หรือ \_\_\_\_\_

หรือ



กลางวัน

\_\_\_\_\_ หรือ \_\_\_\_\_

หรือ

กลางคืน

\_\_\_\_\_ หรือ \_\_\_\_\_

หรือ



กลางวัน

\_\_\_\_\_ หรือ \_\_\_\_\_

หรือ

กลางคืน

\_\_\_\_\_ หรือ \_\_\_\_\_

หรือ



กลางวัน

หรือ

กลางคืน

หรือ



กลางวัน

หรือ

กลางคืน

หรือ



กลางวัน

หรือ

กลางคืน

หรือ



กลางวัน

หรือ

กลางคืน

หรือ

## แบบฝึกหัด 7.3

1 เติมเข็มยาวบนหน้าปัดนาฬิกาให้ตรงกับเวลาที่กำหนด



8.05 น.



9.10 น.



11.30 น.



21.15 น.



14.20 น.



12.40 น.











16.50 น.



24.00 น.

๒ เติมเข็มยาวบนหน้าปัดนาฬิกาให้ตรงกับเวลาที่กำหนด

กลางวัน	กลางคืน
 <p>6.25 น.</p>	 <p>19.35 น.</p>
 <p>15.10 น.</p>	 <p>0.15 น.</p>
 <p>12.35 น.</p>	 <p>0.05 น.</p>
 <p>12.30 น.</p>	 <p>19.55 น.</p>

## แบบฝึกหัด 7.4

- 1) อ่านปฏิทินแล้วเติมคำตอบในช่องว่าง

เดือนกันยายน พ.ศ. ๒๕๖๑						
อาทิตย์	จันทร์	อังคาร	พุธ	พฤหัสบดี	ศุกร์	เสาร์
						1
2	3	4	5	6	7	8
9	10	11	12	13	14	15
16	17	18	19	20	21	22
23 30	24	25	26	27	28	29

- 1) วันแรกของเดือนตรงกับวัน \_\_\_\_\_
- 2) วันอาทิตย์แรกของเดือนนี้คือวันที่ \_\_\_\_\_
- 3) เดือนนี้มี \_\_\_\_\_ วัน
- 4) ถ้าวันนี้เป็นวันที่ 21 อีก \_\_\_\_\_ วันจะถึงวันหยุด
- 5) ถ้าคุณแม่เกิดวันที่ 9 กันยายน ปีนี้วันเกิดคุณแม่ตรงกับวัน \_\_\_\_\_
- 6) เดือนนี้มีวันจันทร์ทั้งหมด \_\_\_\_\_ วัน
- 7) ถ้าทุกวันเสาร์คุณแม่พาไปหาคุณยาย เดือนนี้ฉันจะได้ไปหาคุณยาย \_\_\_\_\_ วัน
- 8) วันสุดท้ายของเดือนนี้ตรงกับวัน \_\_\_\_\_ ที่ \_\_\_\_\_ เดือน \_\_\_\_\_
- 9) เดือนหน้าคือ \_\_\_\_\_ มี \_\_\_\_\_ วัน
- 10) เดือนนี้ฉันมีวันหยุดทั้งหมด \_\_\_\_\_ วัน

๒ อ่านปฏิทินแล้วเติมคำตอบในช่องว่าง

เดือนเมษายน พ.ศ. ๒๕๖๑						
อาทิตย์	จันทร์	อังคาร	พุธ	พฤหัสบดี	ศุกร์	เสาร์
1	2	3	4	5	6	7
8	9	10	11	12	13	14
15	16	17	18	19	20	21
22	23	24	25	26	27	28
29	30					

- 1) วันเสาร์ที่สองของเดือนในปฏิทินนี้ตรงกับวันที่
- 2) เดือนนี้มีทั้งหมด  วัน
- 3) วันสุดท้ายของเดือนที่แล้วตรงกับวัน  ที่   
เดือน
- 4) วันแรกของเดือนถัดไปตรงกับวัน  ที่   
เดือน
- 5) เดือนหน้ามีทั้งหมด  วัน
- 6) เดือนนี้มีวันเสาร์และอาทิตย์ทั้งหมด  วัน



แบบฝึกหัด 7.5

1 อ่านบันทึกและตอบคำถาม

บันทึกการเดินทางไปเที่ยวอัมพวา

ของ เด็กชายรักชาติ รักเมืองไทย

วันที่ ๑๔ กรกฎาคม ๒๕๖๑

๐๗.๐๐ น.	ออกจากกรุงเทพฯ
๐๘.๐๐ น.	ถึงแม่กลอง
๐๙.๐๐ น.	แวะกราบนมัสการหลวงพ่อบ้านแหลม
๑๑.๓๐ น.	แวะชมค่ายบางกุ้ง ที่วัดบางกุ้ง
๑๒.๐๐ น.	แวะรับประทานอาหารกลางวัน
๑๖.๐๐ น.	ถึงตลาดน้ำอัมพวา
๑๙.๐๐ น.	ล่องเรือดูหิ่งห้อย
๒๑.๐๐ น.	กลับกรุงเทพฯ

1) บันทึกนี้เป็นของใคร

ตอบ .....

2) ผู้บันทึกไปเที่ยวอัมพวาเมื่อไร

ตอบ .....

3) เขาใช้เวลาเดินทางจากกรุงเทพฯถึงแม่กลองใช้เวลาเท่าใด

ตอบ .....

4) เขาเดินทางถึงตลาดน้ำอัมพวาเวลาใด

ตอบ .....

5) การเที่ยวครั้งนี้เขาใช้เวลาทั้งหมดกี่ชั่วโมง

ตอบ .....

๒ จากข้อมูลที่กำหนดให้ จงตอบคำถามต่อไปนี้

บันทึกการเดินทางของเด็กชาย สุภาพ สุขสันต์  
วันพุธที่ 30 สิงหาคม พ.ศ. 2561

7.45 น. รถไฟออกจากสถานีธนบุรี  
8.50 น. รถไฟออกจากสถานีนครปฐม  
10.45 น. รถไฟออกจากสถานีกาญจนบุรี  
12.20 น. รถไฟถึงสถานีน้ำตก

1) เหตุการณ์ในบันทึกของเด็กชายสุภาพ เกิดขึ้นเมื่อใด

.....  
.....

2) รถไฟออกจากสถานีธนบุรีเวลาใด

.....  
.....

3) เวลา 10.45 น. รถไฟถึงสถานีใด

.....  
.....

4) รถไฟถึงสถานีน้ำตกเวลาใด

.....  
.....

แบบฝึกหัด 7.6

เขียนบันทึกกิจกรรมประจำวันเสาร์และวันอาทิตย์ที่จะถึงนี้

บันทึกกิจกรรมประจำวันของ

.....

.....

วันเสาร์ที่ ..... เดือน ..... พ.ศ. ....

วัน	กิจกรรม

วันอาทิตย์ที่ ..... เดือน ..... พ.ศ. ....

วัน	กิจกรรม

## แบบฝึกหัด 7.7

เติมคำตอบในช่องว่างให้ถูกต้อง

1 1 เดือน 15 วัน มี  วัน2 2 สัปดาห์ 3 วัน มี  วัน3 5 ปี 6 เดือน มี  เดือน4 2 เดือนครึ่ง มี  วัน5 1 ชั่วโมง 30 นาที มี  นาที6 4 สัปดาห์ 2 วัน มี  วัน7 5 วัน มี  ชั่วโมง8 2 ปี 20 วัน มี  วัน

แบบฝึกหัด 7.8

เติมคำตอบในช่องว่างให้ถูกต้อง

1 18 เดือน  
เท่ากับ  ปี กับ  เดือน

2 90 นาที  
เท่ากับ  ชั่วโมง กับ  นาที

3 72 ชั่วโมง  
เท่ากับ  วัน

4 122 นาที  
เท่ากับ  ชั่วโมง กับ  นาที

5 465 วัน  
เท่ากับ  ปี กับ  วัน

6 25 เดือน  
เท่ากับ  ปี กับ  เดือน

## แบบฝึกหัด 7.9

1) เติมคำว่า มากกว่า น้อยกว่า หรือ เท่ากับ ในช่องว่าง

1) 16 วัน  2 สัปดาห์ กับ 3 วัน

2) 1 ชั่วโมงครึ่ง  80 นาที

3) 2 ปี 3 เดือน  2 ปี กับ 90 วัน

4) 2 สัปดาห์ กับ 5 วัน  18 วัน

5) 150 นาที  2 ชั่วโมง 30 นาที

6) 45 วัน  1 เดือน กับ 20 วัน

7) 200 นาที  3 ชั่วโมง

8) 12 สัปดาห์  ครึ่งปี

## แบบฝึกหัด 7.10

## เติมคำตอบ

1) ขณะนี้วิชาอายุ 32 ปี 3 เดือน อีก 4 ปี 3 เดือน วิชาจะอายุเท่าใด

ตอบ

2) แวทำงานเสร็จในเวลา 5 สัปดาห์ 6 วัน เพ็ญทำงานเสร็จในเวลา 4 สัปดาห์ 4 วัน แวทำงานเสร็จช้ากว่าหรือเร็วกว่าเพ็ญเป็นเวลาเท่าใด

ตอบ

3) นพอายุ 8 ปี 10 เดือน นิดอายุ 6 ปี 4 เดือน นพอายุมากกว่านิดเท่าใด

ตอบ

4) ฉันใช้เวลาทำการบ้าน 35 นาที พี่ใช้เวลาทำการบ้านมากกว่าฉัน 20 นาที พี่ใช้เวลาทำการบ้านเท่าใด

ตอบ

5) พ่อขับรถจากกรุงเทพฯ ไปเพชรบุรี ใช้เวลา 3 ชั่วโมง 20 นาที  
ขับรถจากกรุงเทพฯ ไป พัทลุงใช้เวลา 10 ชั่วโมง 50 นาที พ่อใช้เวลา  
ขับรถไปพัทลุงมากกว่าขับรถไปเพชรบุรีเท่าใด

ตอบ

แบบฝึกหัด 7.11

หาคำตอบพร้อมแสดงแนวคิด

- 1 อ้อยอายุ 50 ปี 4 เดือน ออมอายุ 42 ปี 9 เดือน  
อ้อยอายุมากกว่าออมเท่าใด

วิธีทำ .....

.....

.....

.....

.....

ตอบ .....

- 2 รถไฟออกเดินทางเวลา 10.30 นาฬิกา ถึงอยุธยาเวลา  
12 นาฬิกา รถไฟใช้เวลาเดินทางเท่าใด

วิธีทำ .....

.....

.....

.....

.....

ตอบ .....



- ๓ ฉันทอายุ 31 ปี 5 เดือน น้องอายุ 22 ปี 7 เดือน  
ฉันทอายุมากกว่าน้องกี่ปี กี่เดือน

วิธีทำ .....

.....

.....

.....

ตอบ .....

- ๔ คุณแม่ออกจากบ้านเวลา 7.20 น. ถึงที่ทำงานเวลา 9.10 น.  
คุณแม่ใช้เวลาเดินทางนานเท่าใด

วิธีทำ .....

.....

.....

.....

ตอบ .....